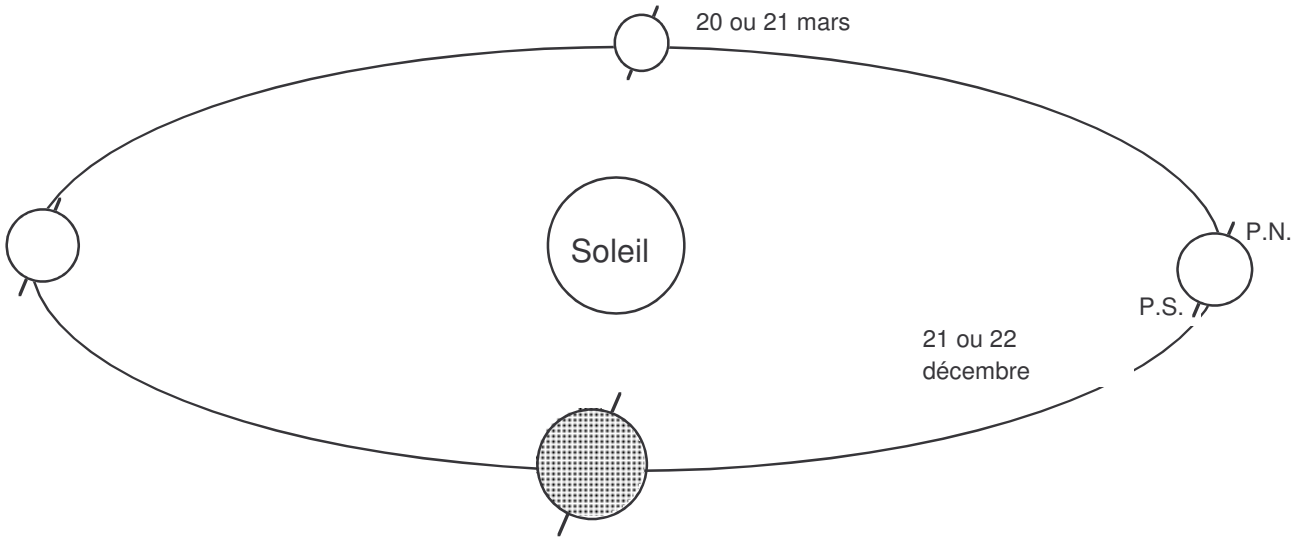


# LES SAISONS

## 1) La trajectoire de la terre

Indique le sens de rotation de la terre sur elle-même. Que remarques-tu pour l'axe des Pôles?  
 Indique le sens de la révolution de la terre autour du soleil. Que remarques-tu?  
 Ecris les dates 20 ou 21 juin, 22 ou 23 septembre.

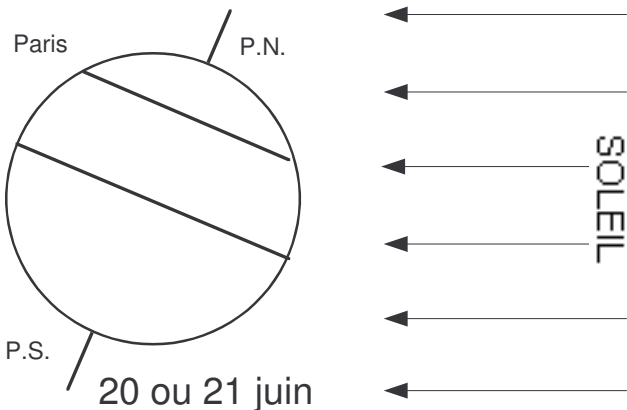
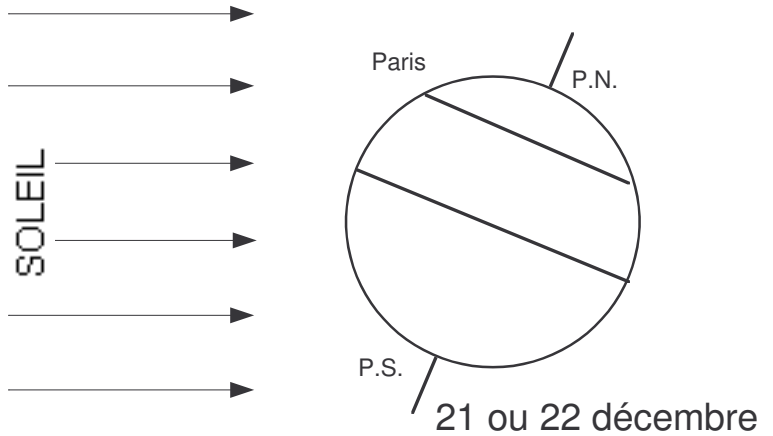


## 2) La durée du jour et de la nuit

Sur chaque dessin

Indique le sens de rotation de la Terre sur elle-même.  
 Trace la ligne de séparation Jour-Nuit et colorie en jaune la partie de la Terre où il fait jour.  
 Indique où se trouve Paris à midi (P12) et à minuit (P24), à 18h (P18) ou à 6h (P6).

En décembre  
 Quelle est la durée du jour  
 Au Pôle Nord:  
 Au Pôle Sud:  
 A l'Equateur:  
 Fait-il jour à Paris à 18h?



En juin  
 Quelle est la durée du jour  
 Au Pôle Nord:  
 Au Pôle Sud:  
 A l'Equateur:  
 Fait-il jour à Paris à 6h?